

**UZUPEŁNIA ZDAJĄCY**

**KOD**

--	--	--

**PESEL**

--	--	--	--	--	--	--	--	--	--	--	--	--	--	--

*miejsce  
na naklejkę*

**EGZAMIN MATURALNY  
Z FIZYKI I ASTRONOMII**

**POZIOM ROZSZERZONY**

**Instrukcja dla zdającego**

1. Sprawdź, czy arkusz egzaminacyjny zawiera 15 stron (zadania 1–7). Ewentualny brak zgłoś przewodniczącemu zespołu nadzorującego egzamin.
2. Rozwiązania i odpowiedzi zapisz w miejscu na to przeznaczonym przy każdym zadaniu.
3. W rozwiązaniach zadań rachunkowych przedstaw tok rozumowania prowadzący do ostatecznego wyniku oraz pamiętaj o jednostkach.
4. Pisz czytelnie. Używaj długopisu/pióra tylko z czarnym tuszem/atramentem.
5. Nie używaj korektora, a błędne zapisy wyraźnie przekreśl.
6. Pamiętaj, że zapisy w brudnopisie nie będą oceniane.
7. Podczas egzaminu możesz korzystać z karty wybranych wzorów i stałych fizycznych, linijki oraz kalkulatora prostego.
8. Na tej stronie oraz na karcie odpowiedzi wpisz swój numer PESEL i przyklej naklejkę z kodem.
9. Nie wpisuj żadnych znaków w części przeznaczonej dla egzaminatora.

**18 MAJA 2017**

**Godzina rozpoczęcia:  
9:00**

**Czas pracy:  
150 minut**

**Liczba punktów  
do uzyskania: 60**







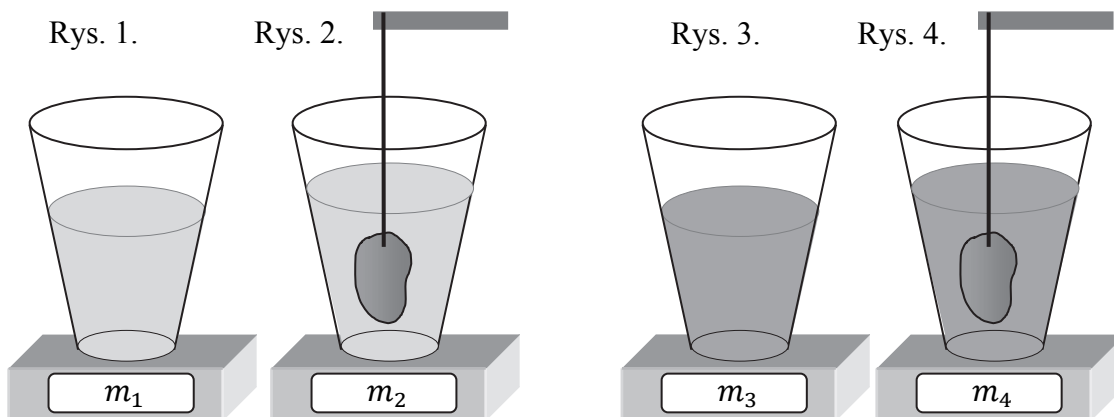




**Zadanie 3. Wyznaczanie gęstości cieczy (8 pkt)**

Zadaniem ucznia było doświadczalne wyznaczenie gęstości  $\rho$  nieznanej cieczy. Uczeń miał do dyspozycji: naczynie z badaną cieczą, naczynie z wodą, nić, ciało o nieregularnym kształcie i objętości  $V$ , które w obu cieczach tonie, oraz precyzyjną wagę kuchenną. Waga mierzy siłę nacisku ciał na niej położonych, a wynik pomiaru wyświetla w jednostkach masy. Doświadczenie wykonywane jest w układzie inercyjnym, w którym przyspieszenie ziemskie wynosi  $\vec{g}$ . Gęstość wody  $\rho_w$  przyjmujemy jako znaną.

Pomiary uczeń wykonywał następująco. Na wadze ustawił naczynie z wodą i odczytał wskazania wagi –  $m_1$  (zobacz rys. 1). Następnie zawiesił ciało na nitce i zanurzył je całkowicie w wodzie tak, że ciało nie dotykało naczynia. Wtedy uczeń ponownie odczytał wskazanie wagi –  $m_2$  (zobacz rys. 2). Podobne czynności uczeń powtórzył z tym samym ciałem i z naczyniem wypełnionym cieczą o nieznanej gęstości  $\rho$ . Analogiczne wskazania wagi wynosiły odpowiednio:  $m_3$  oraz  $m_4$  (zobacz rys. 3 i rys. 4).



<b>Wypełnia egzaminator</b>	<b>Nr zadania</b>	<b>2.1.</b>	<b>2.2.</b>	<b>2.3.</b>
	<b>Maks. liczba pkt</b>	<b>2</b>	<b>1</b>	<b>3</b>
	<b>Uzyskana liczba pkt</b>			

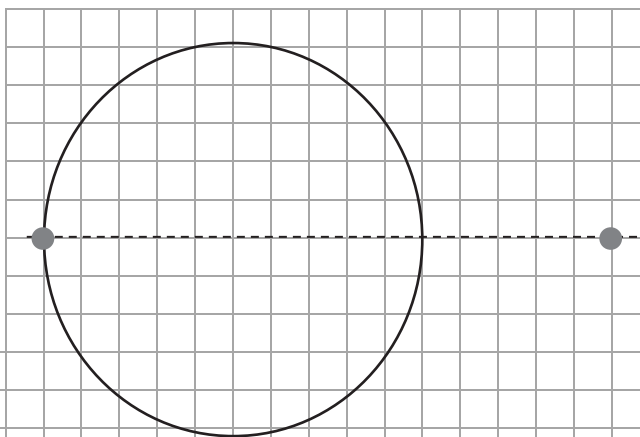




**Zadanie 4.2. (3 pkt)**

Na rysunku przedstawiono położenie plamek na kartce, na której stała szklanka podczas tego doświadczenia. Promień lasera padał na ścianę szklanki na wysokości 4 cm nad kartką.

**Oblicz współczynnik załamania światła w wodzie. Przyjmij, że jedna kratka ma bok o długości 0,5 cm.**



**Zadanie 4.3. (3 pkt)**

**Podkreśl właściwe określenia, tak aby powstały zdania prawdziwe.**

Jeżeli światło pada z powietrza na szkło, to po wejściu do szkła zmianie nie ulega (*prędkość / długość / częstotliwość*) fali świetlnej.

Światło odbite od powierzchni szkła ulega całkowitej polaryzacji liniowej, jeżeli kąt między promieniami (*odbitym i padającym / odbitym i załamanym / padającym i załamanym*) jest równy ( $0^\circ / 90^\circ / \text{kątowi granicznemu} / \text{kątowi Brewstera}$ ).

**Zadanie 5. Obwód drgań elektrycznych (10 pkt)**

Obwód elektryczny składa się z kondensatora i zwojnicy połączonych szeregowo. W tym obwodzie mogą zachodzić sinusoidalne drgania elektryczne, których częstotliwość rezonansowa zależy od pojemności kondensatora oraz indukcyjności zwojnicy.

**Zadanie 5.1. (3 pkt)**

Załóżmy, że rzeczywiste opory występujące w obwodzie możemy pominąć, a indukcyjność zwojnicy wynosi 10 H. W tym obwodzie wzbudzono drgania elektryczne o częstotliwości rezonansowej.

**Oblicz pojemność kondensatora, jeżeli ten obwód wytwarza sinusoidalnie zmienny prąd w antenie, która emituje falę elektromagnetyczną o długości około  $3,77 \cdot 10^5$  m.**



**Zadanie 5.2. (3 pkt)**

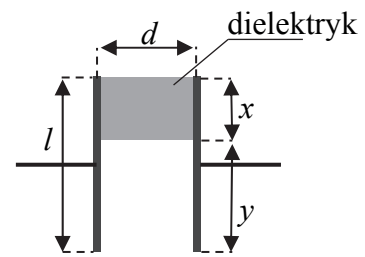
Wykaż, że jeżeli indukcyjność obwodu pozostanie niezmienną, to w celu dwukrotnego zwiększenia długości fali elektromagnetycznej emitowanej przez antenę należy do kondensatora występującego w obwodzie dołączyć równolegle kondensator o trzykrotnie większej pojemności.

Wypełnia egzaminator	Nr zadania	4.2.	4.3.	5.1.	5.2.
	Maks. liczba pkt	3	3	3	3
	Uzyskana liczba pkt				


**Zadanie 5.3. (4 pkt)**

W opisanym obwodzie zastosowano płaskorównoległy kondensator próżniowy. Pojemność układu można zwiększyć czterokrotnie: przez podłączenie (do tego kondensatora) równoległe kondensatora o trzykrotnie większej pojemności.

Tę samą całkowitą pojemność możemy uzyskać, jeżeli wsuniemy pomiędzy okładki kondensatora próżniowego (na całej jego grubości – patrz rysunek) dielektryk o względnej przenikalności  $\epsilon = 6$ .

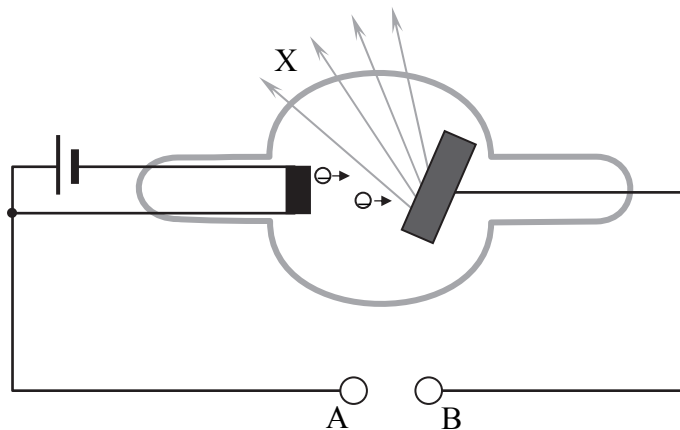


**Oblicz, jaki musi być stosunek części wypełnionej dielektrykiem do niewypełnionej, aby uzyskać efekt czterokrotnego zwiększenia pojemności układu.**



**Zadanie 6. RTG (9 pkt)**

Rysunek poniżej przedstawia uproszczony schemat lampy rentgenowskiej służącej do wytwarzania promieniowania rentgenowskiego (promieniowania X).



Główną częścią układu jest bańka próżniowa z dwiema metalowymi elektrodami. Jedna z elektrod podgrzewana prądem elektrycznym emituje elektrony, które dalej są przyspieszane w polu elektrycznym i uderzają w drugą elektrodę. Rozpędzone elektrony ulegają gwałtownemu hamowaniu w materiale uderzanej elektrody. Dzieje się to w wyniku oddziaływania tych elektronów z atomami materiału elektrody. Część utraconej przez elektrony energii kinetycznej zostaje wyemitowana z tej elektrody w postaci energii kwantów promieniowania elektromagnetycznego (promieniowania X).









**BRUDNOPIS (*nie podlega ocenie*)**

